

UNITÀ DI APPRENDIMENTO SEMPLIFICATA

A cura di Emma Mapelli

LA NASCITA DELLA DEMOCRAZIA AD ATENE

1 OSSERVA GLI SCHEMI. PUOI USARE IL VOCABOLARIO, SE VUOI.

SCHEMA 1 Date, parole importanti, numeri romani

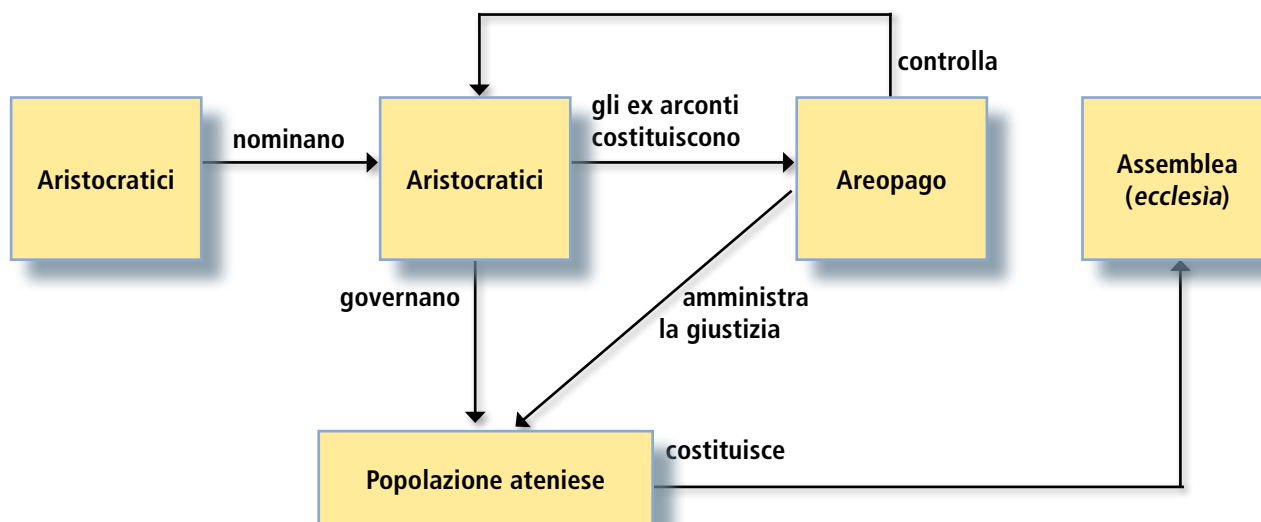
Anno 0	nascita di Cristo	Aristocratici (in greco, <i>aristoi</i>)	famiglie ricche, con molte terre e potere politico
A.C.	avanti Cristo, cioè prima della nascita di Cristo	Ateniese	di Atene
D.C.	dopo Cristo, cioè dopo la nascita di Cristo	Città-stato (<i>polis</i> , plurale <i>poleis</i>)	città indipendente organizzata come un piccolo stato; comprende la città vera e propria ma anche il territorio circostante
Pre	prima	Democrazia	il governo è nelle mani del popolo
Post	dopo	Demos (parola greca)	popolazione ateniese; popolo, contadini, artigiani e commercianti
Neo	nuovo	Ecclesia (parola greca)	assemblea del popolo
numeri romani	I primo (1°)	Eleggere	scegliere, votare
	II secondo (2°)	Governare	controllare, organizzare la vita pubblica
	III terzo (3°)	Legislatore	che fa le leggi
	IV quarto (4°)	Monarca	re, persona che ha grande potere nel governo della città
	V quinto (5°)	Monarchia	il potere è nelle mani di una sola persona (il monarca)
	VI sesto (6°)	Oligarchia	il governo è nelle mani di poche persone (pochi aristocratici)
	VII settimo (7°)	Riforma	cambiamento politico
	VIII ottavo (8°)		
	IX nono (9°)		
	X decimo (10°)		

SCHEMA 2 Date e sintesi

All'inizio un re governa Atene
Alla fine dell'VIII secolo a.C. ad Atene non c'è più il re, ma governano pochi nobili
Tra l'VIII e il VII secolo a.C. ci sono conflitti tra l'aristocrazia e il popolo
Nel 594 a.C. Solone fa una riforma, ma solo i ricchi hanno il governo della città
Nel 510 a.C. Clistene fa una riforma e nasce la democrazia ad Atene
Nelle antiche città greche ci sono due forme di governo: la democrazia e l'oligarchia
La maggior parte delle <i>poleis</i> è una democrazia
Sparta e Atene sono le due più importanti città dell'antica Grecia
Sparta è un modello di oligarchia
Atene è un modello di democrazia

2 OSSERVA LO SCHEMA E LEGGI IL TESTO.

SCHEMA 3 Il governo degli aristocratici di Atene



■ Atene prima è una **monarchia**, poi una **oligarchia**. Nell'**VIII secolo a.C.** c'è un cambiamento e i poteri passano, infatti, dal re a poche famiglie di aristocratici. La città è governata dagli **arconti**. Un'assemblea¹ chiamata areopago controlla gli arconti. Tutti i cittadini maschi liberi fanno parte dell'*ecclesia*, un'assemblea che ha poco potere.

■ Il **demos** (il popolo) **non** può partecipare alla **vita politica**. Inoltre, spesso i più poveri hanno molti **debiti** con gli aristocratici e per questo diventano **schiaivi**. Ad Atene ci sono molti scontri tra aristocratici e popolo.

■ Alla fine del **VII secolo a.C.**, il legislatore **Dracone** scrive le prime **leggi scritte** per limitare il potere delle grandi famiglie aristocratiche. Le leggi scritte sono molto importanti. Tutti possono conoscere le leggi scritte. **Tutti** possono controllare che le leggi vengano applicate.

■ Nel **594 a.C.**, il legislatore **Solone** scrive **nuove leggi** per risolvere i problemi politici di Atene. Solone vuole eliminare la schiavitù per debiti e la distinzione della popolazione in nobili per nascita e popolo. Solone divide, quindi, la **popolazione** in **quattro classi**², sulla base della **ricchezza**.

■ **Solone** fa una riforma ed **elimina** le **ingiustizie** più pesanti. Le persone che migliorano le proprie condizioni economiche possono passare nella classe sociale più alta. Il **potere**, però, rimane nelle mani degli **aristocratici** e per questo ci sono ancora **problemi sociali**. **Donne, schiaivi e stranieri** sono esclusi dalla vita politica: non hanno diritti e non partecipano all'*ecclesia*, cioè all'assemblea del popolo.

■ Nella prima metà del **VI secolo a.C.** il **tiranno Pisistrato** (561-528 a.C.) prende il potere. Pisistrato è un aristocratico, ma prende il potere con l'**aiuto** delle **classi popolari**: Pisistrato prende alcune terre degli aristocratici e dà queste terre ai più poveri. Inoltre, crea **nuovi mercati**, rafforza la **flotta**³ e costruisce **nuovi templi**. In questo modo Pisistrato crea lavoro. In questo periodo ad Atene ci sono pace e benessere; la città greca diventa un **importante centro culturale**.

1 Assemblea = gruppo

2 Classi = gruppi

3 Flotta = le navi

3 SCEGLI LA RISPOSTA GIUSTA.

a) Atene all'inizio	b) Alla fine del VII secolo a.C. Dracone	c) Nel 594 a.C. Solone scrive nuove leggi	d) Solone divide quindi la popolazione in	e) Nel periodo di Pisistrato
<input type="checkbox"/> ha un tiranno	<input type="checkbox"/> scrive le leggi scritte	<input type="checkbox"/> per dare il governo nelle mani del popolo	<input type="checkbox"/> quattro classi, sulla base della ricchezza	<input type="checkbox"/> c'è una grande guerra
<input type="checkbox"/> ha un re	<input type="checkbox"/> diventa tiranno	<input type="checkbox"/> per Sparta	<input type="checkbox"/> tre classi, sulla base della ricchezza	<input type="checkbox"/> i nobili prendono più potere
<input type="checkbox"/> è una oligarchia	<input type="checkbox"/> muore	<input type="checkbox"/> per risolvere i problemi politici di Atene	<input type="checkbox"/> quattro classi, sulla base della nascita	<input type="checkbox"/> ci sono pace e benessere

4 COMPLETA CON UN COMPAGNO LA TABELLA, POI FATEVI A TURNO LE DOMANDE.

	Chi è?	Che cosa fa?
Dracone		
Solone		
Pisistrato		

5 RISPONDI ALLE DOMANDE CON UN TUO COMPAGNO.

a) Qual è la situazione ad Atene prima del VII secolo a.C.?

.....

b) Che cosa succede nel VII secolo a.C.?

.....

c) Che cosa fa Solone?

.....

d) Chi è Pisistrato?

.....

e) Com'è Atene nel periodo di Pisistrato?

.....

■ Ad **Atene**, nel **508 a.C.**, **Clistene** diventa **arconte** e fa molte riforme. Il suo obiettivo è limitare il potere degli aristocratici e fare partecipare al **governo** anche i **meno ricchi**.

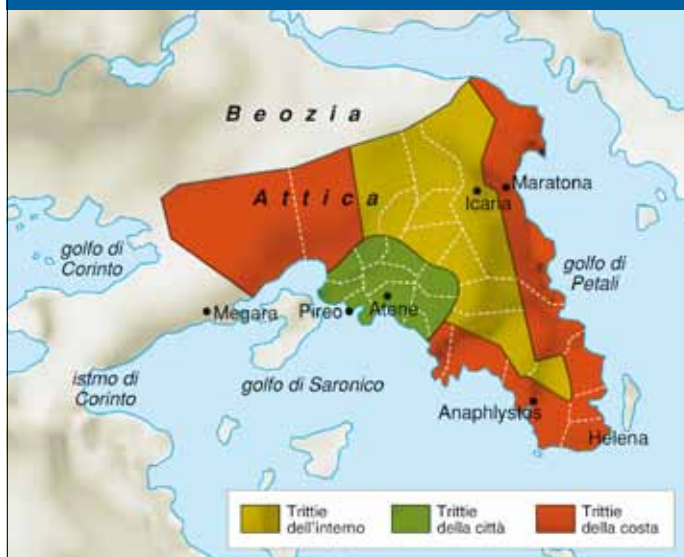
■ Clistene **riorganizza la città-stato** di Atene: abolisce¹ le quattro classi di cittadini basate sulla ricchezza decise da Solone. Clistene organizza il **territorio di Atene in tre parti**. Le tre parti sono: la città e il suo porto, le pianure sulla costa, l'entroterra² collinare e montuoso. Ogni zona è divisa in **100 piccole parti** chiamate **demi**.

■ Clistene organizza poi **la popolazione in tribù**. Un gruppo di **3 demi** forma una tribù. In ogni tribù ci sono tutti i tipi di **cittadini**: i ricchi aristocratici, i contadini poveri e i commercianti. Le persone appartengono a una tribù per **territorio di residenza** e non per nascita.

■ Ogni tribù sceglie **50 rappresentanti**³. I rappresentanti di tutte le tribù insieme formano la **bulé** (Consiglio dei 500). La **bulé propone le leggi**, si occupa di **politica estera**⁴, dell'**esercito**, di **questioni religiose** e di **lavori pubblici**.

■ Ora l'**ecclesia** (assemblea) governa Atene e vi partecipano anche i meno ricchi. L'**ecclesia** è un gruppo formato da tutti i **cittadini maschi maggiorenni**⁵. L'**ecclesia** deve discutere le proposte della **bulé**, scegliere e controllare i **magistrati**.

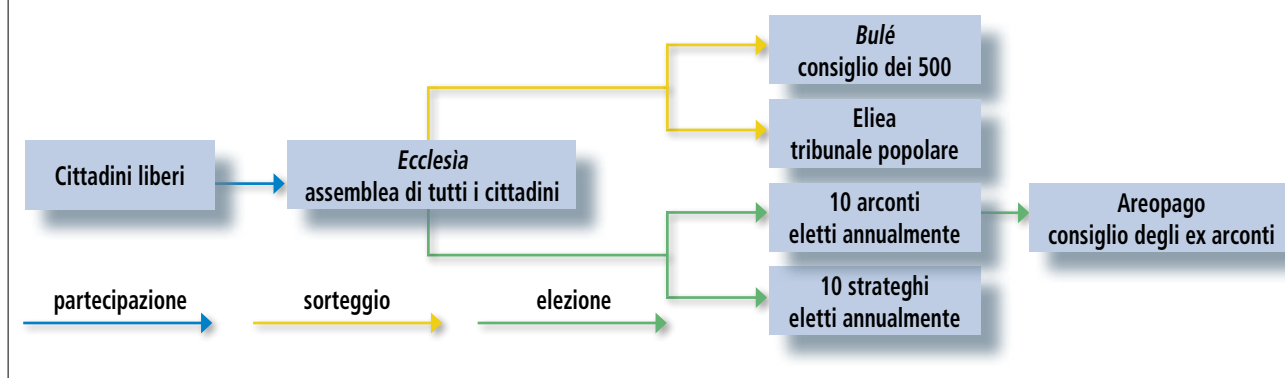
La divisione del territorio di Atene voluta da Clistene



■ All'inizio del **V secolo a.C.**, Atene diventa una **democrazia**. È la prima volta nella storia. Nella democrazia di Atene tutti i cittadini maschi e adulti hanno uguali diritti. Solo **chi è nato ad Atene** può essere cittadino: donne, schiavi e stranieri non possono partecipare alla vita politica. Inoltre, solo **pochi cittadini ricchi** veramente partecipano all'**assemblea**. Molti, infatti, non possono lasciare il lavoro per la politica.

- 1 Abolire = eliminare
- 2 Entroterra = la parte più interna, lontana dal mare
- 3 Rappresentante = un cittadino che rappresenta un altro cittadino
- 4 Politica estera = la politica di Atene verso le altre città e le colonie
- 5 Maggiorenni = con più di 18 anni

SCHEMA 4 L'ordinamento democratico ad Atene nel V secolo a.C.



7 SCEGLI LA RISPOSTA GIUSTA.

a) Clistene vuole	b) Clistene elimina	c) Ogni tribù ha	d) Chi governa Atene?	e) Alla vita politica partecipano
<input type="checkbox"/> dare più potere ai ricchi	<input type="checkbox"/> le quattro classi di cittadini	<input type="checkbox"/> i suoi rappresentanti	<input type="checkbox"/> Clistene	<input type="checkbox"/> tutti
<input type="checkbox"/> dare più potere anche ai poveri	<input type="checkbox"/> le leggi scritte	<input type="checkbox"/> una <i>bulé</i>	<input type="checkbox"/> La <i>bulé</i>	<input type="checkbox"/> solo i cittadini maschi
<input type="checkbox"/> dare potere alle donne	<input type="checkbox"/> lo stato	<input type="checkbox"/> rappresentanti stranieri	<input type="checkbox"/> L' <i>ecclesia</i>	<input type="checkbox"/> solo le donne e gli uomini liberi

8 COMPLETA CON UN TUO COMPAGNO LA TABELLA, POI FATEVI A TURNO LE DOMANDE.

	Com'è?	Che cosa fa?
Una tribù		
La <i>bulé</i>		
L' <i>ecclesia</i>		

9 RISPONDI ALLE DOMANDE CON UN TUO COMPAGNO.

a) In che secolo vive Clistene?

.....

b) Che cosa fa Clistene?

.....

c) Che cos'è la *bulé*?

.....

d) Che cos'è l'*ecclesia*?

.....

e) Com'è la condizione della donna nella democrazia ad Atene?

.....

10 LEGGI IL TESTO E OSSERVA LO SCHEMA.

■ **“Politica”** è una parola di origine greca. La parola “politica” viene da *polis* che significa “città”. “Politica” significa **“arte¹ di governare la città”**.

■ Dal VI secolo a.C. in Grecia ci sono nelle *poleis* due tipi di governo: l'**oligarchia** e la **democrazia**.

■ La **democrazia** è presente nella maggior parte delle città-stato. Nella democrazia il **popolo governa**.

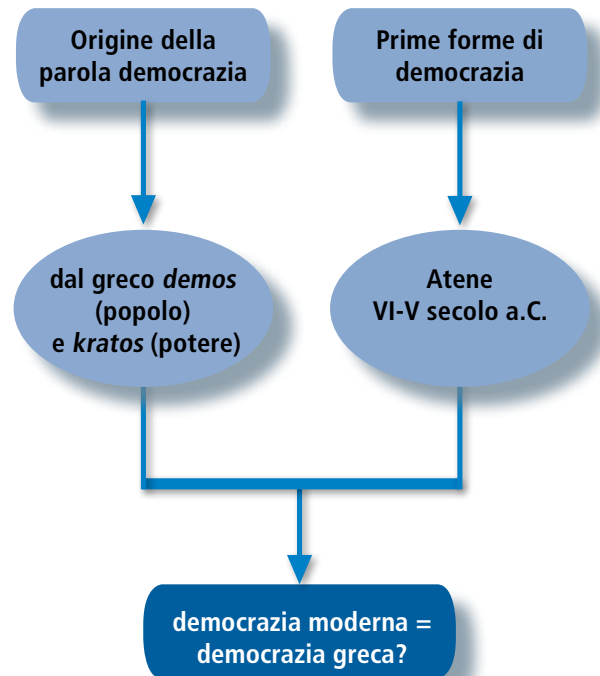
■ **Oligarchia** significa “governo di pochi”. In alcune *poleis* dell’antica Grecia, infatti, **governano solo gli aristocratici**.

■ **Atene e Sparta** sono le città greche più importanti. Queste città sono un **modello²** per le altre. Atene è un modello di democrazia; Sparta è un modello di oligarchia.

1 Arte in questo caso significa capacità

2 Modello = esempio

SCHEMA 5 Le prime esperienze di democrazia nascono in Grecia



11 SCEGLI LA RISPOSTA GIUSTA.

a) “Politica” significa	b) Dal VI secolo a.C. in Grecia	c) La democrazia è	d) L’oligarchia è	e) Atene e Sparta sono
<input type="checkbox"/> gioco	<input type="checkbox"/> ci sono poche città-stato con oligarchie	<input type="checkbox"/> una persona	<input type="checkbox"/> il governo nelle mani di pochi	<input type="checkbox"/> due importanti città nella Magna Grecia
<input type="checkbox"/> arte di governare la città	<input type="checkbox"/> ci sono molte democrazie	<input type="checkbox"/> il governo nelle mani di un tiranno	<input type="checkbox"/> un animale	<input type="checkbox"/> le due più importanti città dell’antica Grecia
<input type="checkbox"/> vita	<input type="checkbox"/> non ci sono oligarchie	<input type="checkbox"/> il governo nelle mani del popolo	<input type="checkbox"/> il governo nelle mani di molti	<input type="checkbox"/> due città con un governo democratico

12 COMPLETA LE FRASI CON UNA FRECCIA.

1) La politica è	a) il governo nelle mani di pochi
2) L'oligarchia è	b) due antiche città greche molto diverse
3) La democrazia è	c) l'arte di governare la città
4) Atene e Sparta sono	d) il governo nelle mani del popolo

13 RISPONDI ALLE DOMANDE CON UN TUO COMPAGNO.

a) Che cos'è la politica?

.....

b) Che cosa significa oligarchia?

.....

c) Che cosa significa democrazia?

.....

d) Che forma di governo ha Sparta?

.....

e) Che tipo di città sono Atene e Sparta?

.....
